

A 3D rendering of several interlocking puzzle pieces. The pieces are primarily light gray with blue highlights and shadows, set against a dark blue background with glowing, wavy lines. The pieces are arranged in a cluster, with some pieces appearing to be in the process of fitting together.

第 1 章

直線和線性函數



1.1 笛卡兒座標系統

笛卡兒座標系統

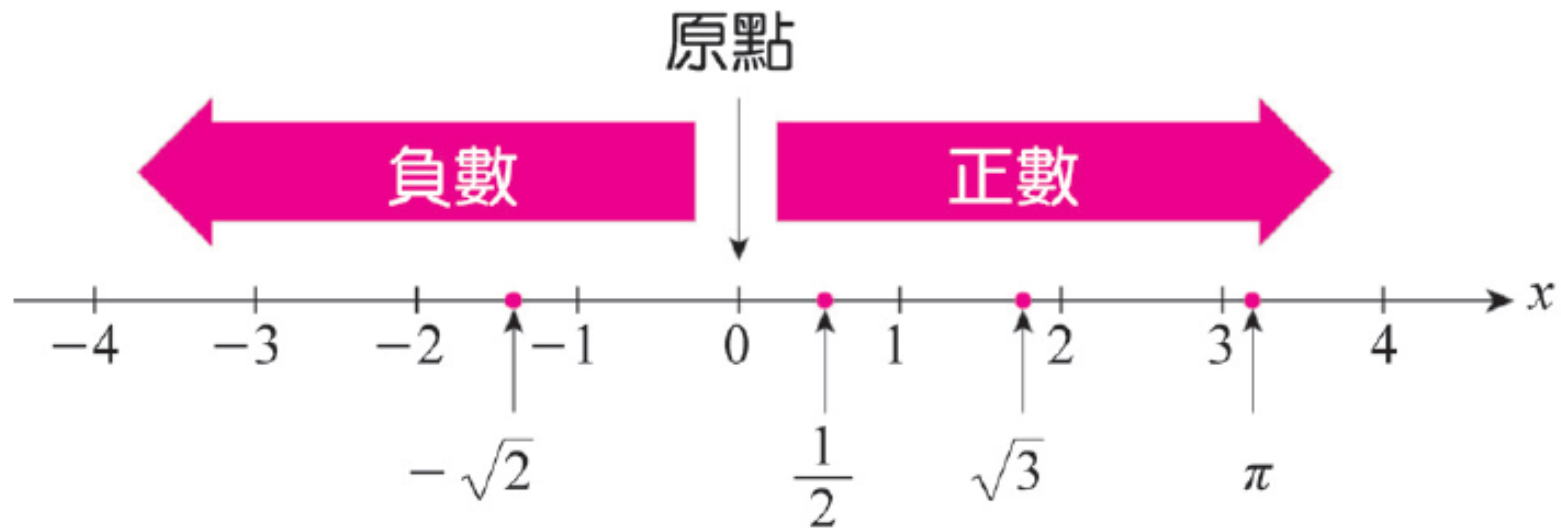


圖 1 實數線



笛卡兒座標系統

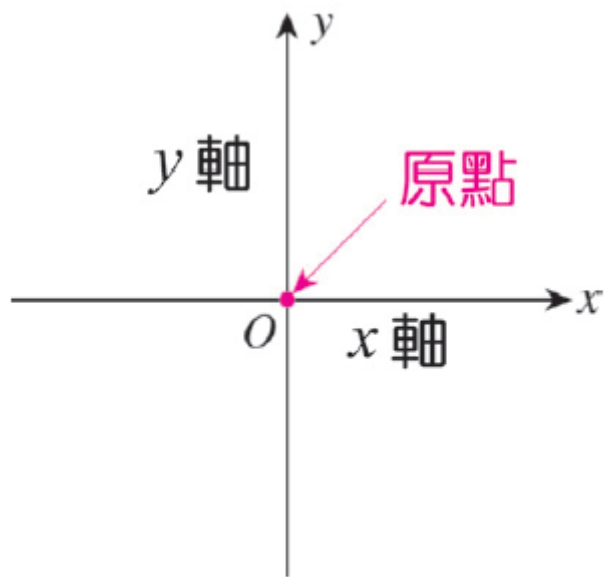


圖 2 笛卡兒座標系統

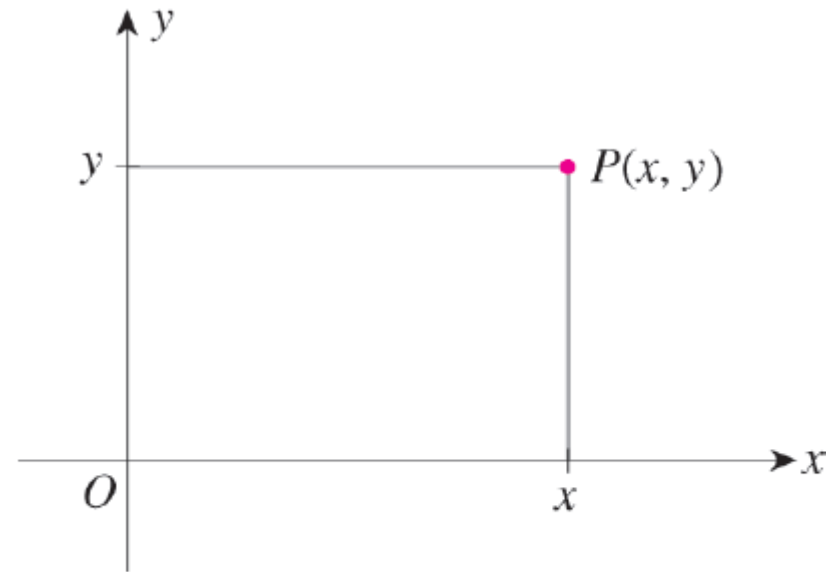


圖 3 座標平面的有序實數對 (x, y)



笛卡兒座標系統

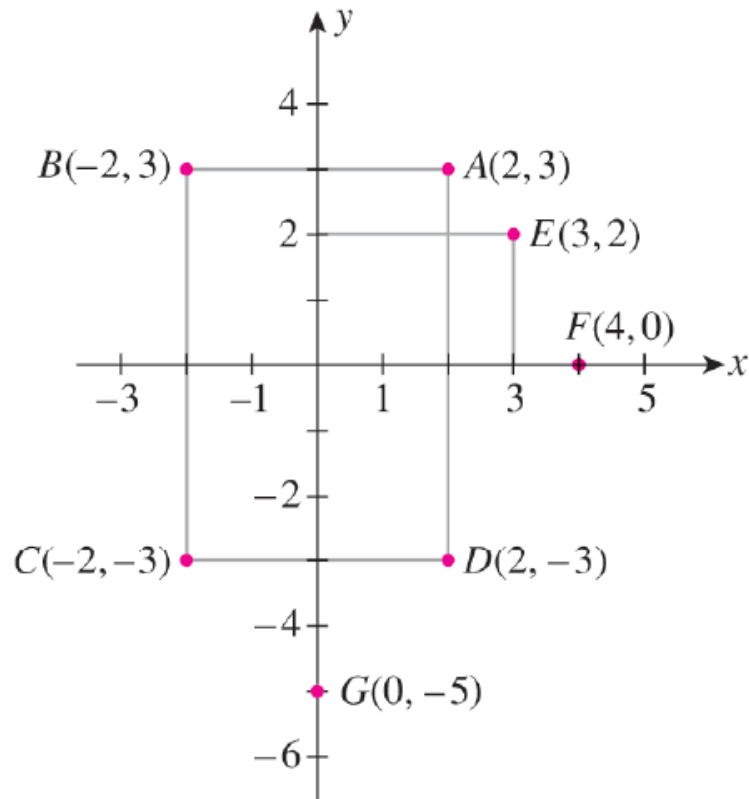


圖 4 座標平面上的部分點

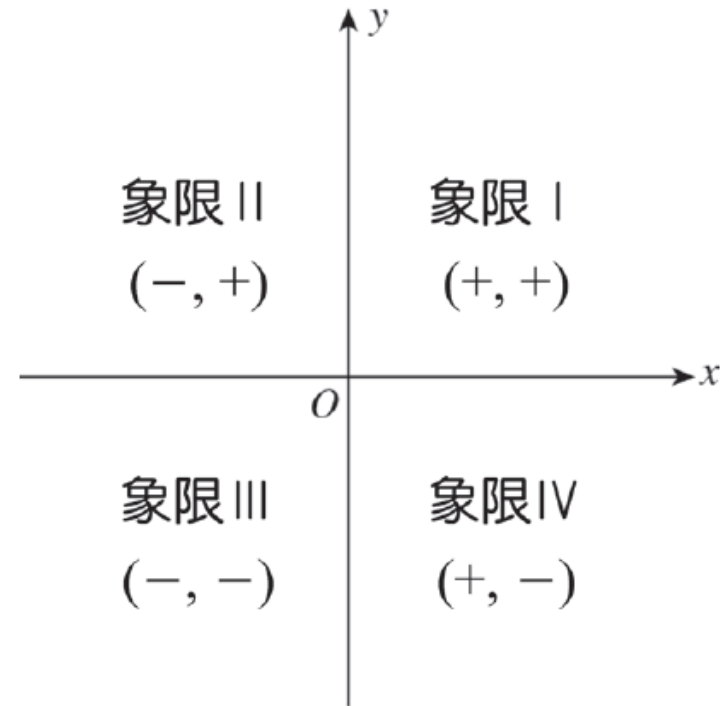


圖 5 座標平面上的四個象限



距離的公式

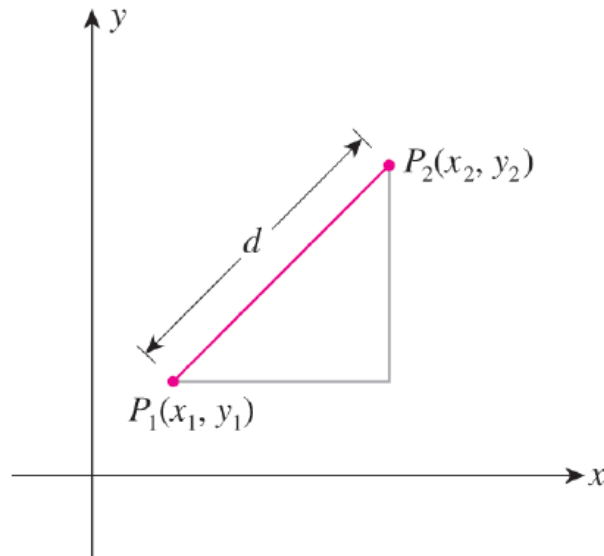


圖 6 座標平面上兩點的距離 d

距離的公式

平面上的兩點 $P_1(x_1, y_1)$ 與 $P_2(x_2, y_2)$ 之間的距離 d 為

$$d = \sqrt{(x_2 - x_1)^2 + (y_2 - y_1)^2} \quad (1)$$



例題 1

- 試求 $(-4, 3)$ 與 $(2, 6)$ 兩點之間的距離。



例題 2

- 令 $P(x, y)$ 是圓上的一點，此圓半徑為 r ，中心點為 $C(h, k)$ ，請找出 x 與 y 的關係式。



距離的公式

圓方程式

圓心 $C(h, k)$ ，半徑為 r 的圓方程式(equation of a circle)為

$$(x - h)^2 + (y - k)^2 = r^2 \quad (2)$$



例題 3

- 找出下列的圓方程式：
 - a. 半徑為2，圓心在 $(-1, 3)$ 。
 - b. 半徑為3，圓心在原點。



1.2 直線 線的斜率

- 假設 L 是通過相異兩點 (x_1, y_1) 及 (x_2, y_2) 的唯一線。若 $x_1 \neq x_2$ ，則 L 斜率(slope)定義如下：

非垂線的斜率

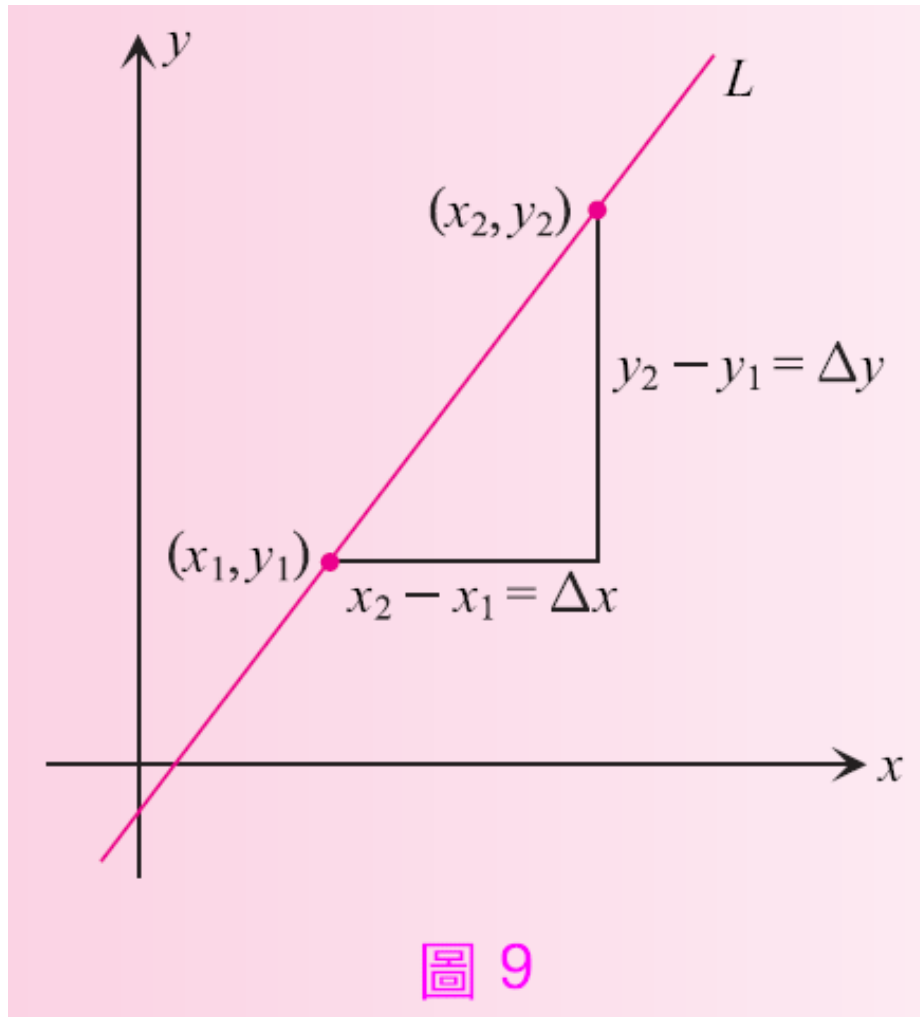
假設 L 是條非垂線(nonvertical line)且通過兩相異點 (x_1, y_1) 及 (x_2, y_2) ，則可計算其斜率 m

$$m = \frac{\Delta y}{\Delta x} = \frac{y_2 - y_1}{x_2 - x_1} \quad (3)$$

參見圖9。



線的斜率





線的斜率

- 若 $x_1 = x_2$ ，則 L 是一條垂線 (vertical line)，其斜率無定義 (undefined)，見圖 10。

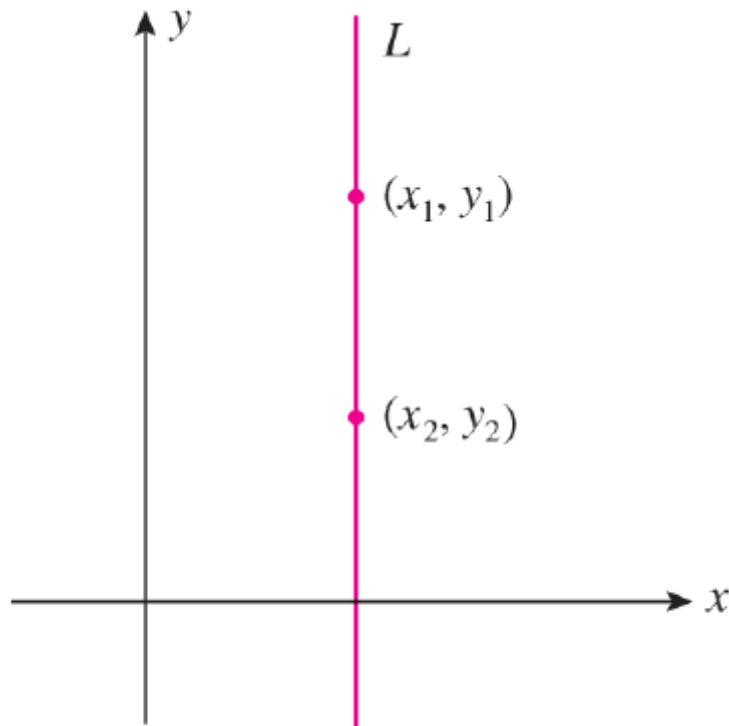
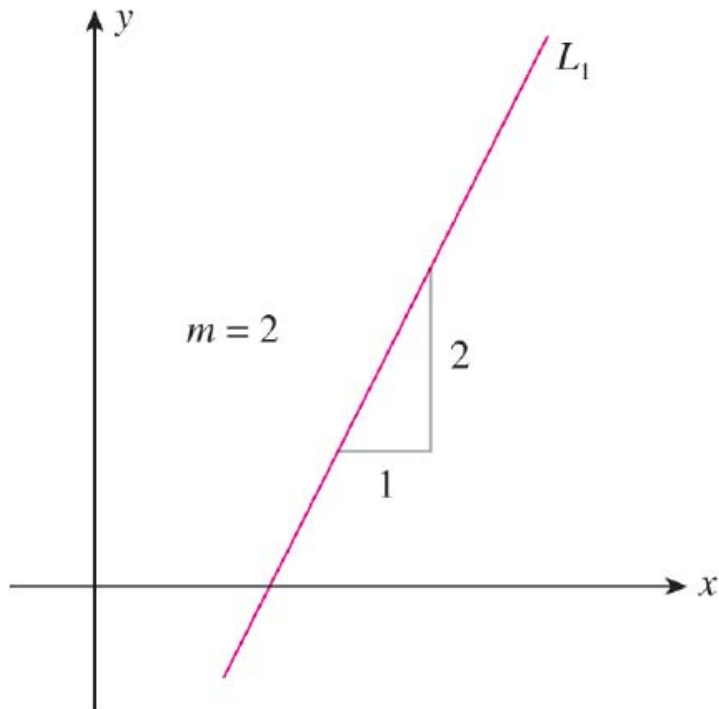


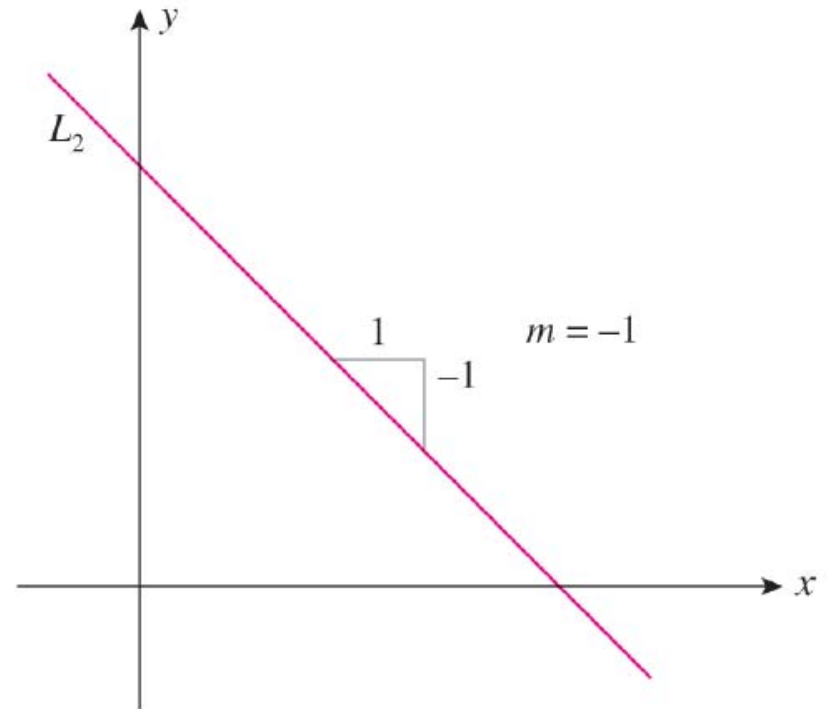
圖 10 此 L 線的斜率無定義



線的斜率



(a) 往上升的線 ($m > 0$)



(b) 往下降的線 ($m < 0$)

圖 11



線的斜率

- 圖12 顯示出一群通過原點的直線及其斜率，由圖中可以很明顯看到斜率的正負與線的走向關係。

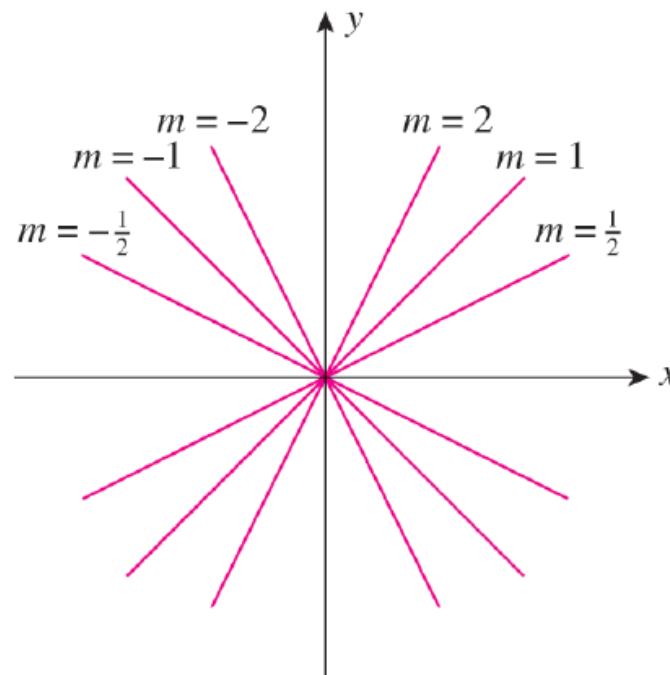


圖 12 一群通過原點的直線



例題 1

- 畫出通過點 $(-2, 5)$ ，斜率為 $-\frac{4}{3}$ 的直線。



例題 2

- 一直線通過點 $(-1, 1)$ 與 $(5, 3)$ ，找出其斜率 m 。



例題 3

- 找出通過點 $(-2, 5)$ 與 $(3, 5)$ 的直線斜率。



線的斜率

- 從上例可知水平線(horizontal line)的斜率是0。此外，我們可從兩線的斜率判斷它們是否平行。

平行線

相異的兩條線互相平行(parallel)，若且唯若其斜率相等或均無定義。



例題 4

- 令 L_1 為通過點 $(-2, 9)$ 與 $(1, 3)$ 的線， L_2 為通過點 $(-4, 10)$ 與 $(3, -4)$ 的線，試問 L_1 與 L_2 是否平行？



線方程式

- 令 L 為平行於 y 軸(垂直於 x 軸)的直線，則 L 切過 x 軸的 $(a, 0)$ 點，其 x 座標必然是 $x = a$ ， a 為任意的實數。所以， L 的線方程式可寫成

$$x = a$$

L 即是垂線。例如，圖17的兩條垂線，其線方程式分別為 $x = -2$ 及 $x = 3$ 。



線方程式

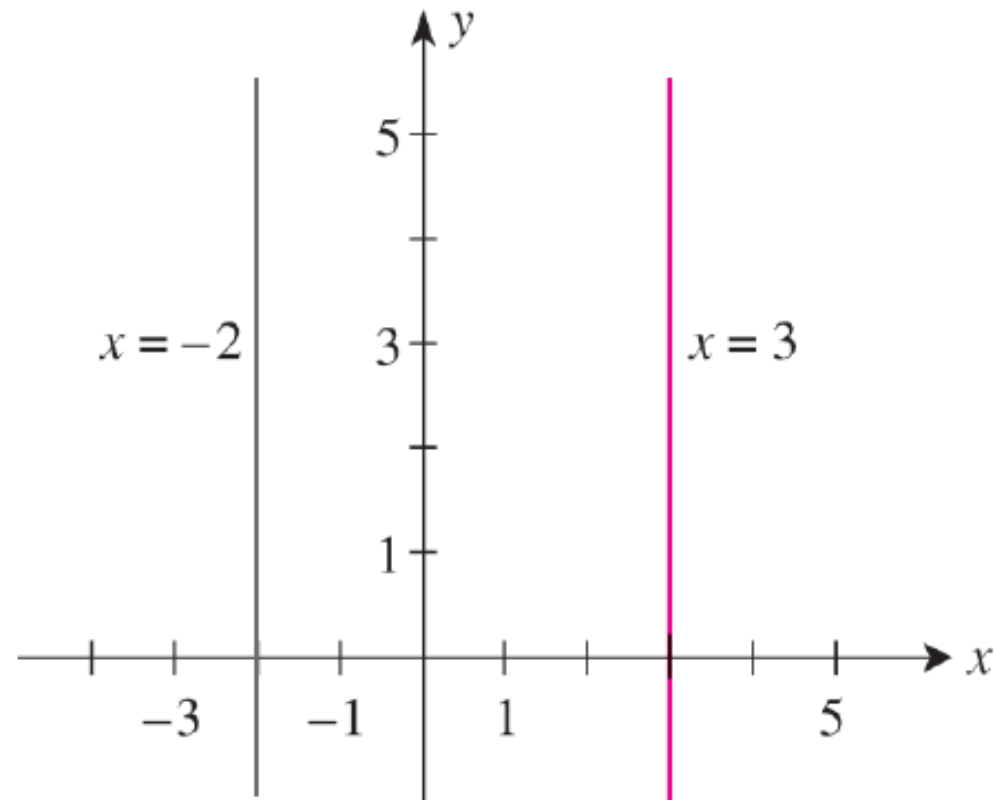


圖 17 $x = -2$ 及 $x = 3$ 的垂線



線方程式

- 假設 L 是一條非垂線，其斜率為 m ， (x_1, y_1) 為線上的
一個點。令 (x, y) 是 L 線上另一點，則由公式(3)可得

$$m = \frac{y - y_1}{x - x_1}$$

交叉相乘後，即得下列點斜式(point-slope form)方程式(4)。

點斜式

已知一直線的斜率是 m ，且通過點 (x_1, y_1) ，則其線方程式為

$$y - y_1 = m(x - x_1) \quad (4)$$



例題 5

- 一直線通過點 $(1, 3)$ ，斜率為 2 ，求其線方程式。



例題 6

- 一線通過點 $(-3, 2)$ 與 $(4, -1)$ ，求其線方程式。



線方程式

互相垂直的線

若 L_1 與 L_2 為相異的兩條非垂線，斜率分別為 m_1 與 m_2 ，則 L_1 與 L_2 互相垂直(perpendicular) (寫成 $L_1 \perp L_2$)若且唯若

$$m_1 = -\frac{1}{m_2}$$



例題 7

- 一線通過點(3, 1) 並與例題5 之直線垂直，寫出其線方程式。



線方程式

- 若一直線 L 不是水平線也不是垂線，它必然與 x 軸和 y 軸相交。假設 L 與 x 軸交於 $(a, 0)$ ，與 y 軸交於 $(0, b)$ ，則 a, b 分別稱為線 L 的 x 截距(x -intercept)與 y 截距(y -intercept)，參見圖20。

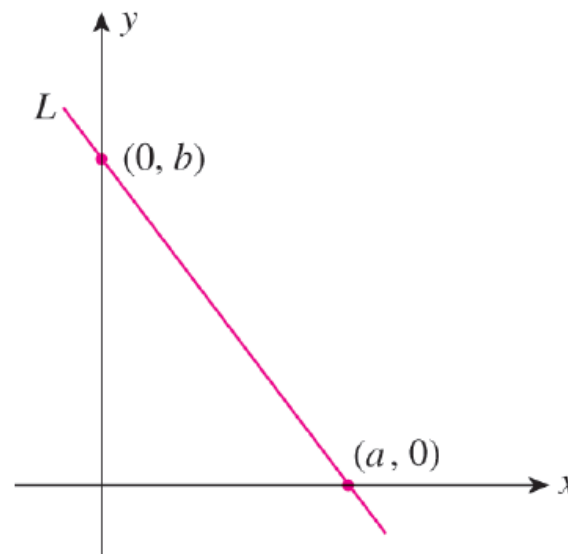


圖 20 線 L 的 x 截距為 a ， y 截距為 b



線方程式

- 令 L 直線的斜率為 m ， y 截距為 b 。因 L 經 $(0, b)$ 的點，故由點斜式(即公式(4))可得

$$y - b = m(x - 0)$$

$$y = mx + b$$

該式稱為斜截式(slope-intercept form)。

斜截式

一直線的斜率是 m 且與 y 軸相交於 $(0, b)$ ，則其線方程式為

$$y = mx + b \quad (5)$$



例題 8

- 一直線的斜率是3， y 截距是4，寫出其線方程式。



例題 9

- 給定線方程式 $3x - 4y = 8$ ，找出該線的斜率及 y 截距。

例題 10 運動器材的銷售額

- 某地區一家運動器材店銷售經理繪製了過去5年的銷售圖，並發現資料點約形成一條直線(見圖21)。請用第一年與第五年的資料點找出其趨勢線(trend line)，並預測第六年的銷售額。

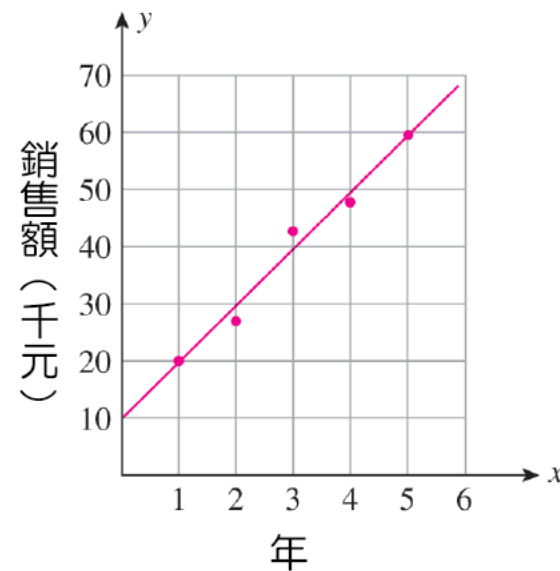


圖 21 運動器材店的銷售圖



線方程式的一般式

線方程式的一般式

含 x, y 變數的一般式線性方程式為

$$Ax + By + C = 0 \quad (6)$$

其中， A, B, C 是常數且 A, B 至少有一數不為0。

一直線的方程式一定是線性方程式；同時，每一線性方程式恰好代表著一條直線。



例題 12

- 畫出 $3x - 4y - 12 = 0$ 的線。



線方程式的一般式

直線方程式

垂線： $x = a$

水平線： $y = b$

點斜式： $y - y_1 = m(x - x_1)$

斜截式： $y = mx + b$

一般式： $Ax + By + C = 0$



1.3 線性函數與數學模型

數學模型

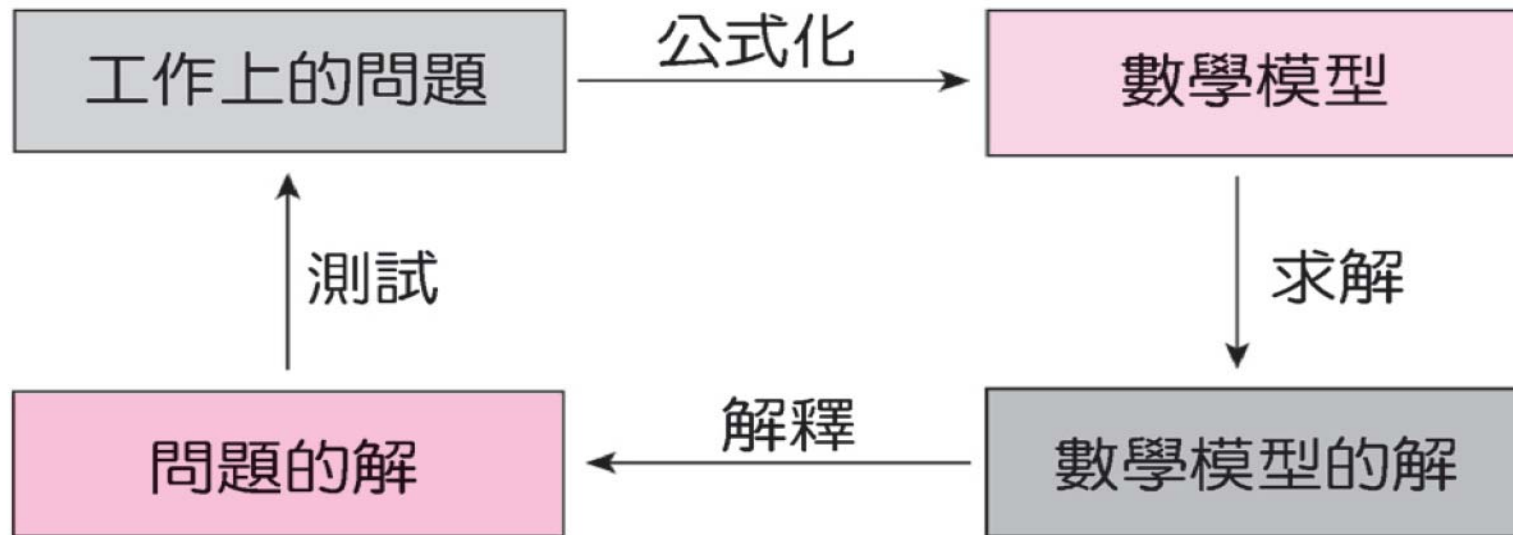


圖 23 解決問題的 4 個步驟



函數

函數

函數(function) f 定義了 x 與 y 之間的對應規則，每個 x 值對應一且唯一的 y 值。

線性函數

我們稱函數 $f(x) = mx + b$ 為線性函數(linear function)，其中 m 和 b 為任意的常數。



例題 1 美國健康照護花費

- 由於美國高齡人口快速成長，預期未來幾十年其健康照護花費將明顯增加。下表列出美國2008-2013年的健康照護花費(單位：兆元)，2009年以後為預估值：

年, t	2008	2009	2010	2011	2012	2013
花費, y	2.34	2.47	2.57	2.70	2.85	3.02

- 表中的數據可以下列數學模型描述：

$$S(t) = 0.134t + 2.325$$

其中 t 代表年份，起始年 ($t = 0$) 為 2008 年。



例題 1 美國健康照護花費（續）

- a. 繪出函數 S 的圖形。
- b. 假設這個趨勢繼續維持下去，2014年(即 $t = 6$)時，美國健康照護花費估計為若干？
- c. 試問自2008至2013年期間，美國健康照護花費的增加速率為何？

資料來源：Centers for Medicare & Medicaid Services.



例題 2 線性折舊

- 一台網路伺服器的初始價值是10,000元，經線性折舊5年後的殘值為3,000元。
 - a. 寫出其帳面價值的函數，以 t 代表折舊的年份。
 - b. 2年後該網路伺服器的帳面價值若干？
 - c. 此網路伺服器的折舊速率為何？



線性成本、線性收入及線性利潤函數

成本函數、收入函數及利潤函數

令 x 代表產品的生產量或銷售量，則**成本函數(cost function)**為

$$C(x) = \text{生產}x\text{個產品的總成本}$$

收入函數(revenue function)為

$$R(x) = \text{銷售}x\text{個產品的總收入}$$

利潤函數(profit function)為

$$P(x) = \text{生產並銷售}x\text{個產品得到的總利潤}$$



例題 3 利潤函數

- 某家濾水器製造商的固定成本為每月20,000元，單位生產成本為20元，單位售價為30元，請列出該製造商的成本、收入及利潤函數。



例題 4 需求函數

- 一鬧鐘在單位價格8元時需求量是48,000個，單位價格12元時需求量降到32,000個。
 - a. 在線性的假設下，請寫出需求方程式。
 - b. 當需求量為40,000個時，單位價格為多少？
 - c. 若單位價格為14元，則需求量是多少？



例題 5 供應函數

- 一商品的供應方程式為 $4p - 5x = 120$ ， p 的單位是元， x 的單位是 100。
 - a. 試繪出供應曲線。
 - b. 試問單位價格 55 元時，供應量為多少？



1.4 直線的交點 尋找二線的交點

- 實務上有些問題的解就在兩線的交點 (intersection) 上。以下我們說明如何以代數的方法解二直線的交點。令 L_1, L_2 代表兩條直線，其線方程式分別為

$$y = m_1x + b_1$$

$$y = m_2x + b_2$$

其中 m_1, b_1, m_2, b_2 是常數，兩直線交於 $P(x_0, y_0)$ ，如圖 30。



尋找二線的交點

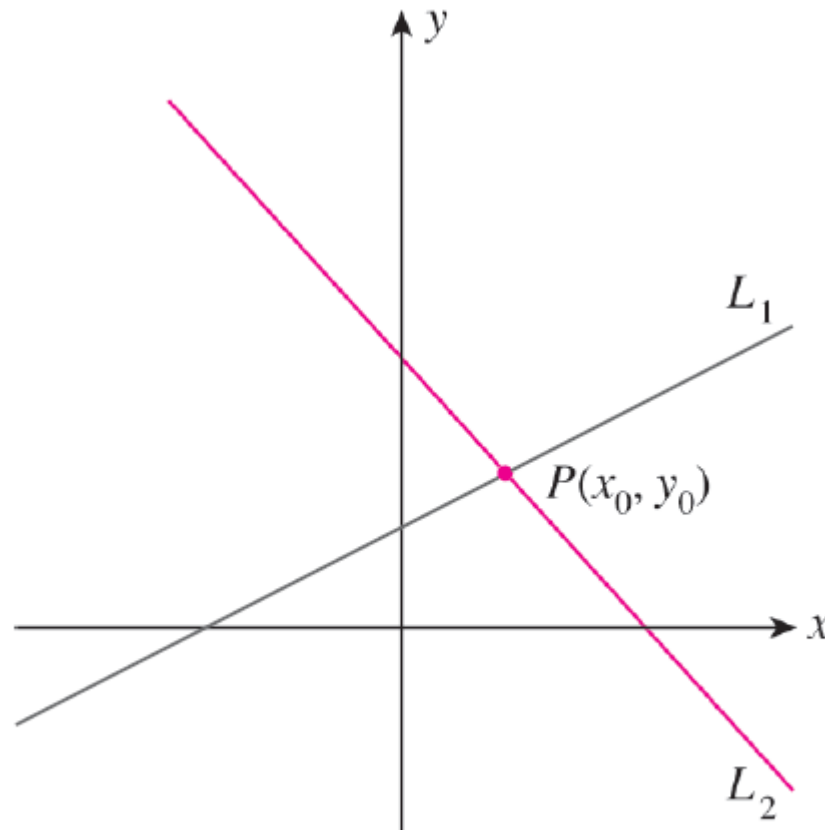


圖 30 線 L_1 和 L_2 相交於 $P(x_0, y_0)$



例題 1

- 請找出二直線 $y = x + 1$ 與 $y = 2x + 4$ 的交點。



損益兩平分析

- 假設公司的成本、收入及利潤函數均為線性，其方程式如下：

$$C(x) = cx + F$$

$$R(x) = sx$$

$$\begin{aligned} P(x) &= R(x) - C(x) \\ &= (s - c)x - F \end{aligned}$$

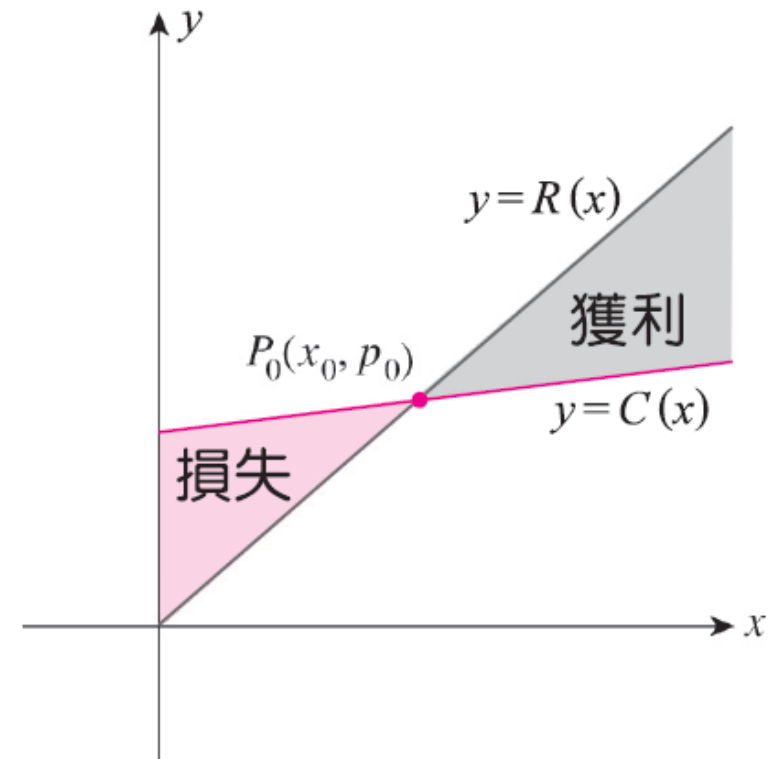


圖 32 P_0 為損益兩平點



例題 2 損益兩平水準

- 培特公司的產品單位生產成本是4元，每個售價10元，已知公司每月的固定成本為12,000元，試求其損益兩平點。



例題 3 損益兩平分析

- 承例題2 回答下列問題：
 - a. 如果培特公司每個月僅生產並銷售1,500 個產品，公司的損失會是多少？
 - b. 如果每個月生產並銷售3,000 個產品，公司的利潤會是多少？
 - c. 培特公司應生產多少個產品才能保證至少有9,000元的獲利？



例題 4 決策分析

- 羅森公司的管理階層必須在兩種製造程序中做選擇。兩種程序其月成本函數分別為 $C_1(x) = 20x + 10,000$ 以及 $C_2(x) = 10x + 30,000$ ，其中 x 為產品的生產量。今知產品單價為40元，且預計月銷售量是800個，則公司的管理階層應選擇何種程序以使利潤最大？



市場均衡

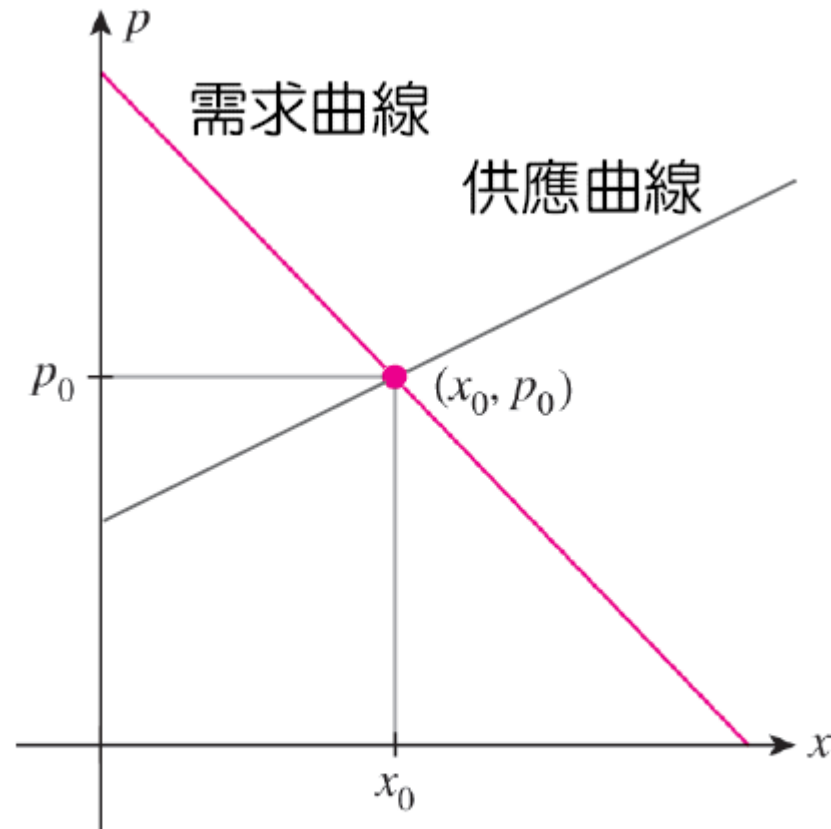


圖 34 市場於 (x_0, p_0) 點達到均衡



例題 6 市場均衡

- 溫馬公司專門生產掛壁式溫度計，其產品的需求方程式為

$$5x + 3p - 30 = 0$$

供應方程式為

$$52x - 30p + 45 = 0$$

其中， x 為需求數量(單位：1,000 個)， p 為溫度計之單價。請找出均衡數量與價格。



例題 7 市場均衡

- 某一廠牌的DVD 播放機在單價260元時，需求量为8,000台；於單價200元時，需求量为10,000台。又知單價低於100元時，製造商將不供應商品；但單價高於100元時每提升50元，製造商將增加1,000台的供應量。今假設需求與供應方程式均為線性。
 - a. 寫出需求方程式。
 - b. 寫出供應方程式。
 - c. 找出均衡數量與價格。



1.5 最小平方法

斜截式最小平方法

假設有以下 n 個資料點

$$P_1(x_1, y_1), P_2(x_2, y_2), P_3(x_3, y_3), \dots, P_n(x_n, y_n)$$

其最小平方線(或迴歸線)方程式為

$$y = f(x) = mx + b$$

其中， m 與 b 由正規方程組(normal equations) (9)與(10)求解而得

$$nb + (x_1 + x_2 + \dots + x_n)m = y_1 + y_2 + \dots + y_n \quad (9)$$

$$\begin{aligned} &(x_1 + x_2 + \dots + x_n)b + (x_1^2 + x_2^2 + \dots + x_n^2)m \\ &= x_1y_1 + x_2y_2 + \dots + x_ny_n \end{aligned} \quad (10)$$



1.5 最小平方法

例題 1

- 找出下列資料點之最小平方線

$$P_1(1, 1), P_2(2, 3), P_3(3, 4), P_4(4, 3), P_5(5, 6)$$



例題 2 美國健康照護花費

- 本題承自第1.3節例題1。由於美國高齡人口快速成長，預期未來幾十年其健康照護花費將明顯增加。下表列出美國2008-2013年的健康照護花費(單位：兆元)，其中 t 代表年份，起始年($t = 0$)為2008年，2009年以後為預估值

年， t	0	1	2	3	4	5
花費， y	2.34	2.47	2.57	2.70	2.85	3.02

試利用最小平方法找出美國健康照護花費的函數。

資料來源：Centers for Medicare & Medicaid Services.